

Historická Praha – Románský sloh

Obsahový cíl:

Studenti získají povědomí o románském slohu na našem území, rozeznají jeho charakteristické rysy, pojmenují je a ukazují na konkrétních stavebních památkách v Praze.

Jazykový cíl:

Studenti si osvojí slovní zásobu v daném uměleckém slohu a budou schopni napsat krátký popisný text o památce/památkách v Praze.

Slovní zásoba:

románský sloh, rotunda, most, hrad, dům, kostel, bazilika, církev, stavba, umění, věž, klášter, opevnění, kruhový/čtvercový/ obdélníkový půdorys, válec, apsida, loď, postavit, založit, zbořit, pohřbít, měřit, široký, zázrak, století, kamenná stavba

Jazykové struktury:

... jmenuje se podle..., ... označuje..., existoval..., významný je..., stavěli se..., typické stavby jsou..., památky jsou..., najdeme je na...,... byl založen/ postaven ..., má ... půdorys...

Dostupné z portálu www.inkluzivniskola.cz, vytvořeného společností META, o.p.s. za finanční podpory Ministerstva školství, mládeže a tělovýchovy ČR. Provoz portálu je spolufinancován z prostředků Evropského fondu pro integraci státních příslušníků třetích zemí.



MINISTERSTVO VNITRA
ČESKÉ REPUBLIKY



MINISTERSTVO ŠKOLSTVÍ,
MLÁDEŽE A TĚLOVÝCHOVY

Historická Praha - Románský sloh



1. Znáte tyto stavby?

rotunda, most, hrad, dům, kostel, bazilika



2. Přeložte si.

církev	
stavba	
umění	
označovat	
věž	
klášter	



Románský sloh v Čechách

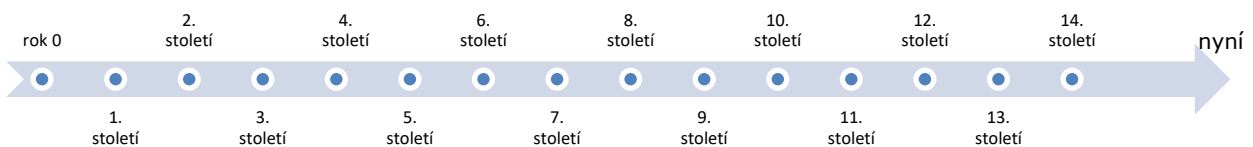


Románský sloh (=styl) se jmenuje podle města **Roma = Řím** (hlavní město Itálie) a označoval **umění** v západní Evropě. V Česku se rozvíjel **od konce 9. století až do poloviny 13. století**. Důležitá byla **církev**, a proto se stavěli **kostely** a **kláštery**. Později se stavěli první **hrady**, **mosty**, **opevnění** a **domy**. Hlavní stavby byly **rotunda** a **bazilika**.



typická románská stavba - **Rotunda na Vyšehradě** (Praha)

1. Kdy byl románský sloh v Čechách? Vyznačte na časové ose.



2. Vyplňte:

Sloh	Kde?	Kdy?	Stavby
Románský sloh			

Dostupné z portálu www.inkluzivniskola.cz, vytvořeného společností META, o.p.s. za finanční podpory Ministerstva školství, mládeže a tělovýchovy ČR. Provoz portálu je spolufinancován z prostředků Evropského fondu pro integraci státních příslušníků třetích zemí.



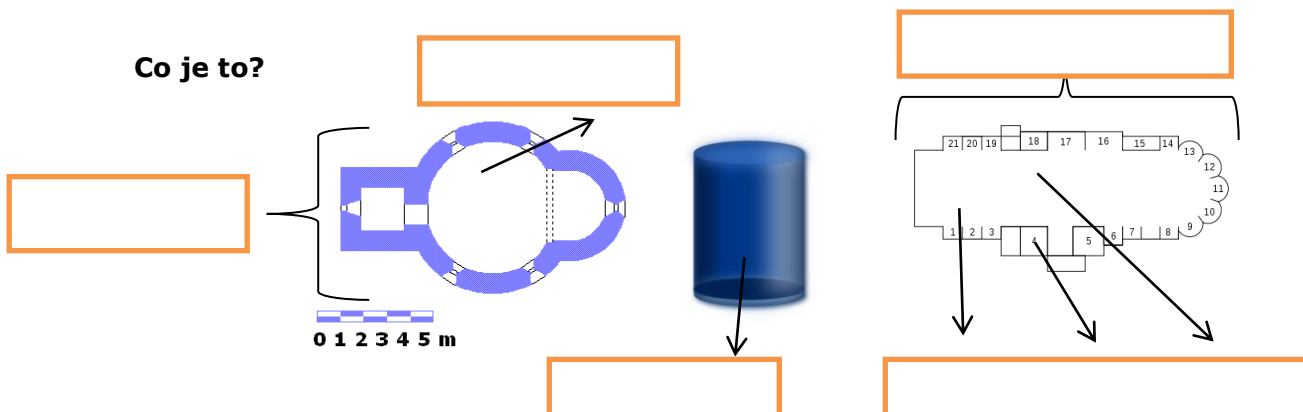
MINISTERSTVO VNITRA
ČESKÉ REPUBLIKY



3. Románské stavby

Rotunda měla **kruhový** půdorys a tvar **válce**, někdy měla i **apsidu (= výklenek)** nebo věž. Významná je **rotunda svatého Jiří na Řípu**. **Bazilika** měla **obdélníkový** nebo **čtvercový** půdorys, stavba byla rozdělena na 1 nebo 3 části (= **lodě**).

Co je to?



4. Najděte správné odpovědi. Spojte číslo a písmeno.

1. Co je to románský sloh?	E. stavba (kostel), která měla obdélníkový nebo čtvercový půdorys, stavba byla rozdělena na 1 nebo 3 části (=lodě)
2. Kdy existoval na našem území?	A. umění v západní Evropě, jméno má podle města Řím
3. Co je typické pro architekturu?	B. stavby měly kruhový půdorys, tvar válce, hlavní stavby byly rotunda a bazilika, později hrady
4. Co je to rotunda?	C. rotunda svatého Martina na Vyšehradě, bazilika svatého Jiří na Pražském hradě, Juditin kamenný most
5. Co je bazilika?	D. stavba, která měla kruhový půdorys, apsidu (výklenek) a někdy i věž
6. Jaké jsou památky v Praze?	E. existoval od konce 9. století do poloviny 13. Století

řešení: 1.A , 2. _____, 3. _____, 4. _____, 5. _____, 6. _____,

Dostupné z portálu www.inkluzivniskola.cz, vytvořeného společností META, o.p.s. za finanční podpory Ministerstva školství, mládeže a tělovýchovy ČR. Provoz portálu je spolufinancován z prostředků Evropského fondu pro integraci státních příslušníků třetích zemí.



5. Znáte románské památky? Spojte a doplňte.

- | | | |
|-----------------------|----------------------|---------------------------|
| A. Strahovský klášter | B. bazilika sv. Jiří | C. rotunda sv. Jiří (Říp) |
| D. Juditin most | E. sv. Ludmila | |



----- SV. -----

----- SV. -----



----- SV. -----



6. Co je to románský sloh? Doplňte.

..... se jmenuje podle.....

.....označuje

..... existoval

Typické stavby jsou

Pražské románské památky jsou



V následujícím textu budou čísla. Co je to za čísla? Diskutujte.

?

1140	925	1357
514 m	7 metrů	12.


?

Dostupné z portálu www.inkluzivniskola.cz, vytvořeného společností META, o.p.s. za finanční podpory Ministerstva školství, mládeže a tělovýchovy ČR. Provoz portálu je spolufinancován z prostředků Evropského fondu pro integraci státních příslušníků třetích zemí.

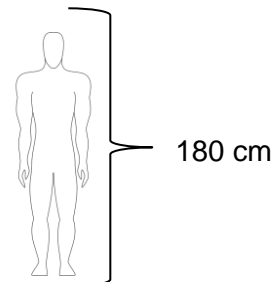


MINISTERSTVO VNITRA
ČESKÉ REPUBLIKY



 **Spojte obrázek a slovo, budou v následujícím textu:**

A. postavit	B. založit	C. zbořit	D. pohřbít
E. měřit	F. široký	G. zázrak	



V Praze **najdeme** hodně románských památek. Na Vyšehradě najdeme **rotundu svatého Martina z 11. století**. Na **Strahově** stojí **klášter**, který byl založen v roce **1140**. Významnou památkou v areálu Pražského hradu je **bazilika svatého Jiří**. Bazilika byla postavena v roce **925**. Byla zde pohřbena svatá Ludmila, patronka české země, babička svatého Václava. Můžete je vidět na Václavském náměstí v Praze, svatý Václav je na koni, Ludmila dole vlevo. Další významná památka byl kamenný most přes řeku Vltavu - **Juditin most**. Byl postaven na konci **12. století**. Most měřil **514 metrů**, byl široký **7 metrů**. Dnes se jmenuje Karlův most - starý kamenný most byl zbořen a vedle něj dal král Karel IV. postavit nový (**1357**).



1. Kde památky najdeme?

Rotundu sv. Martina	najdeme na	Vltavě.
Baziliku sv. Jiří		Pražském hradě.
Karlův most		Vyšehradě.
Strahovský klášter		Strahově.



2. Kdy byly památky postavené?

Rotunda sv. Martina	byla postavena	v roce 925.
Bazilika sv. Jiří		v 11. století.
Karlův most	byl postaven	v roce 1140.
Strahovský klášter		v roce 1357.

Dostupné z portálu www.inkluzivniskola.cz, vytvořeného společností META, o.p.s. za finanční podpory Ministerstva školství, mládeže a tělovýchovy ČR. Provoz portálu je spolufinancován z prostředků Evropského fondu pro integraci státních příslušníků třetích zemí.



3. Naplánujte procházku po památkách románského slohu v Praze. Kam a jak půjdete? Použijte mapu a označte místa v mapě:

1. Juditin kamenný most (dnes nový Karlův most)
2. rotunda sv. Martina na Vyšehradě
3. klášter (bazilika) sv. Jiří na Pražském hradě
4. rotunda sv. Longina, Praha (kousek od JABOKu)

4. Doplňte písmena do slov a trénujte jejich výslovnost:

V_Ž, _OST, RO_U_ _ A, P_DOR_ S, KL_ŠT_R, BA_IL_K_, KOS_E_, OB_ÉL_ÍK,

KR_H, ČT_ER_C, HR_D, VÁ _ E _

5. Vypište z textu slova s velkým počátečním písmenem (např. Praha) a řekni, proč se píše velké písmeno? (Pomůcka: jsou to jména měst, zemí, staveb/domů, lidí):

Zkontrolujte ve skupině.

Dostupné z portálu www.inkluzivniskola.cz, vytvořeného společností META, o.p.s. za finanční podpory Ministerstva školství, mládeže a tělovýchovy ČR. Provoz portálu je spolufinancován z prostředků Evropského fondu pro integraci státních příslušníků třetích zemí.



MINISTERSTVO VNITRA
ČESKÉ REPUBLIKY



MINISTERSTVO ŠKOLSTVÍ,
MLÁDEŽE A TĚLOVÝCHOVY

Použité zdroje

Obrázky:

[cit. 2017-01-03]. Dostupný pod licencí Public Domain a Creative Commons na WWW:

<<https://pixabay.com/cs/%C5%99%C3%ADp-rotunda-tapeta-kostel-1626054/>>
 <<https://pixabay.com/cs/most-rom%C3%A1nsk%C3%BD-st%C5%99edov%C4%9Bk%C3%A1-%C5%99eka-947631/>>
 <<https://pixabay.com/cs/eilean-donan-hrad-hrad-eilean-donan-650681/>>
 <<https://pixabay.com/cs/architektonick%C3%BD-johanka-z-arku-kaple-2950305/>>
 <<https://pixabay.com/cs/kamenn%C3%BD-d%C5%AFm-zem%C4%9Bd%C4%9Blsk%C3%A1-usedlost-116974/>>
 <<https://pixabay.com/cs/toro-bazilika-kostel-139143/>>
 <https://upload.wikimedia.org/wikipedia/commons/4/4f/Praha%2C_rotunda_svat%C3%A9ho_Martina_%282012%29.JPG>
 <<https://pixabay.com/cs/datab%C3%A1ze-v%C3%A1lec-modr%C3%A1-kontejner-155774/>>
 <https://commons.wikimedia.org/wiki/File:Predni_Kopanina_Rotunda_of_St_Mary_Magdalene_in_Romanesque_period.gif>
 <[https://commons.wikimedia.org/wiki/File:Praha,_Nov%C3%A9_M%C4%9Bsto_-_socha_sv._Ludmily_\(Trojick%C3%A1\).jpg](https://commons.wikimedia.org/wiki/File:Praha,_Nov%C3%A9_M%C4%9Bsto_-_socha_sv._Ludmily_(Trojick%C3%A1).jpg)>
 <https://commons.wikimedia.org/wiki/File:%C5%98%C3%ADp_-_rotunda_svat%C3%A9ho_Ji%C5%99%C3%AD_2013_obr1.jpg>
 <https://commons.wikimedia.org/wiki/File:Bazilika_Svat%C3%A9ho_Ji%C5%99%C3%AD-Prague.JPG>
 <https://commons.wikimedia.org/wiki/File:P%C3%ADsek,_Kamenn%C3%BD_most_a_n%C3%A1b%C5%99e%C5%BE%C3%AD.JPG>
 <https://commons.wikimedia.org/wiki/File:Praha,_Strahovsk%C3%BD_kl%C3%A1%C5%A1ter,_bazilika_01.jpg>
 <<https://pixabay.com/cs/poh%C5%99eb-rakev-smrt-2028289/>>
 <<https://pixabay.com/cs/samec-postava-lidsk%C3%A9-t%C4%9Blo-formul%C3%A1%C5%99-37479/>>
 <<https://pixabay.com/cs/svinovac%C3%AD-metr-opat%C5%99en%C3%AD-m%C4%9B%C5%99i%C4%8D-d%C3%A1lka-2157303/>>
 <<https://pixabay.com/cs/k%C3%A1men-ze%C4%8F-beton-star%C3%A9-ne-lid%C3%A9-3045362/>>
 <<https://pixabay.com/cs/krajiny-%C5%99eka-voda-%C5%A1irok%C3%BD-banka-2793164/>>
 <<https://pixabay.com/cs/opu%C5%A1t%C4%9Bn%C3%A9-m%C3%ADsto-p%C5%99eden%C3%AD-z%C5%99%C3%ADcenina-1682745/>>
 <https://commons.wikimedia.org/wiki/File:Praha,_Katedr%C3%A1la,_p%C5%AFdorys_kaple.svg>
 >

Dostupné z portálu www.inkluzivniskola.cz, vytvořeného společností META, o.p.s. za finanční podpory Ministerstva školství, mládeže a tělovýchovy ČR. Provoz portálu je spolufinancován z prostředků Evropského fondu pro integraci státních příslušníků třetích zemí.



MINISTERSTVO VNITRA
ČESKÉ REPUBLIKY



MINISTERSTVO ŠKOLSTVÍ,
MLÁDEŽE A TĚLOVÝCHOVY